

Torthaí Foghlama i bhFócas

Snáithe Comhthéacsúil: DB4

Ba chóir go mbeadh sé ar chumas an scoláire *cur síos a dhéanamh ar* struchtúr, ar feidhm, agus ar idirghníomhaíochtaí orgáin chórais díleá, imshruthaithe agus riospráide an duine.

CUR SÍOS A DHÉANAMH: pictiúr nó íomhá mhionsonraithe a fhorbairt ar struchtúr nó ar phróiseas, mar shampla, ag úsáid focal nó léaráidí mar is cuí; plan, ionsamhlú nó samhail a tháirgeadh

Nádúr na hEolaíochta: NnahE1

Ba chóir go mbeadh sé ar chumas an scoláire *léirtheiscint a bheith aige don chaoi a mbíonn eolaithe ag obair* agus don chaoi a gcoigeartaítear tuairimí le himeacht aimsire.

Intinní Foghlama

Foghlaiméoidh scoláirí chun

1. Cur síos a dhéanamh ar idirghníomhaíochtaí na gcóras riospráide, díleá agus imshruthaithe trí shamhail eolaíochta a fhorbairt.

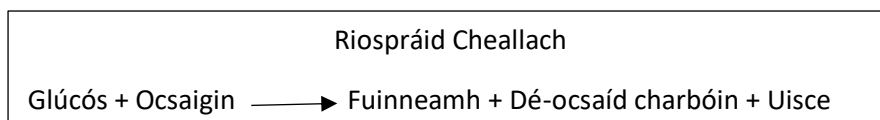
Réamhfhoghlaim

Is féidir le scoláirí cur síos ar struchtúr agus ar fheidhmiú gach cinn de na trí chóras agus is féidir leo cur síos ar an riospráid mar phróiseas ceimiceach agus bitheolaíoch.

Bileog Ghníomhaíochta an Scoláire:

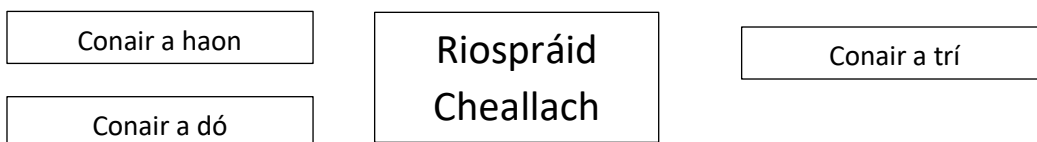
Is minic a fhorbraíonn eolaithe samhlaí chun a mhíniú conas a oibríonn rudaí. Is féidir le *samhail eolaíochta* a bheith ina léaráid nó ina líníocht nó ina léiriú de chineál éigin eile a chabhraíonn chun próiseas a mhíniú. Taréis an ghníomhaíocht seo a chríochnú, beidh samhail tógtha agat a mhíniú conas a oibríonn roinnt de chórais do choirp le chéile.

1. Chuir an cárta a léiríonn riospráid cealla ar an úrlár nó bord mór.



- Taispeáin conair na gcarbaihiodráití ón mbéal go dtí an chill ag úsáid na gcártaí uile leis an uimhir 1 (Conair a h-aon)
- Taispeáin conair na hocsagine ón mbéal/srón go dtí an chill ag úsáid na gcártaí uile leis an uimhir 2 (Conair a dó)
- Taispeáin conas a dhíbrítear Dé-ocsaíd charbóin agus uisce as an gcorp ag úsáid na gcártaí uile leis an uimhir 3. (Conair a trí).

Ar deireadh beidh struchtúr agat ar nós an chinn léirithe thíos:

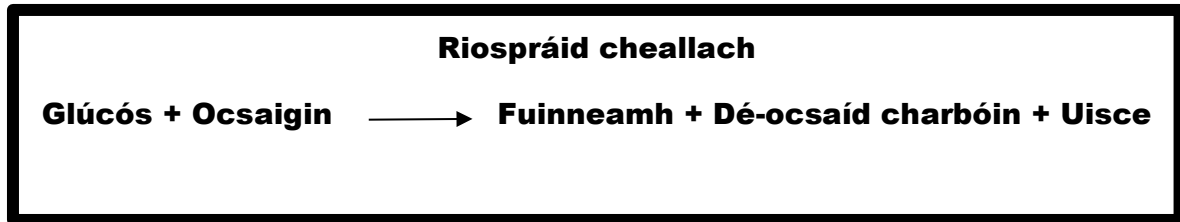


Léiríonn an struchtúr conas a oibríonn an córas díleá, an córas imshruthaithe agus an córas riospráide le chéile ionas go dtarlóidh riospráid cheallach. Léirítear sa tsamhail seo áfach, níos mó ná croí amháin agus níos mó ná léiriú amháin de na h-orgáin sa chóras riospráide. Ar an leathanach a thugtar déan amach samhail níos oiriúnaí ag úsáid focal agus/nó léaráidí a thaispeánann go soiléir conas a oibríonn na trí chóras le chéile chun riospráid cheallach a éascú.

Gníomhaíocht sínithe

An féidir leat a léiriú ar do léaráid/shamhail cé na córais eile a bhfuil eolas agat orthu a d'fhéadfadh cur leis an bpróiseas seo freisin? I measc na gcórais a thiocthadh leat a chur san áireamh tá an cnámharlach, an néarchóras agus an córas matánach.

Acmhainní Scoláirí



Tacar 1: Gearr amach agus cuir an uimhir 1 ar gach ceann de na rudaí seo a leanas:

GOILE	CROÍ
BÉAL	FUIL SNA hARTAIRÍ
STÉIG BHEAG	ÉASAFAGAS
RIBeadÁIN	RIBeadÁIN
FUIL SNA FÉITHEACHA	

Tacar 2: Gearr amach agus cuir an uimhir 2 ar gach ceann de na rudaí seo a leanas:

CROÍ	BRONCAIS
RIBeadÁIN	BÉAL/SRÓN
BROINCÍNÍ	FUIL SNA hARTAIRÍ
TRAICÉ	AILBHEOLAIS
RIBeadÁIN	FUIL SAN FHÉITH SCÁMHÓGACH

Tacar 3: Gearr amach agus cuir an uimhir 3 ar gach ceann de na rudaí seo a leanas:

BRONCAS	FUIL SNA FÉITHEACHA
CROÍ	BROINCÍNÍ
TRAICÉ	BÉAL/SRÓN
FUIL SAN ARTAIRE SCAMHÓGACH	AILBHEOLAIS
RIBeadÁIN	RIBeadÁIN